

25人教版一年级下册数学拔尖测试卷

(期中考试测试卷)

时间：60分钟 满分：100分 等级：_____

一、填空题。(每空1分，总分41分)

1. 在横线上填上“>”、“<”或“=”。

$18-9 \bigcirc 8$

$18 \bigcirc 8+9$

$60 \bigcirc 67-7$

$30+6 \bigcirc 57-7$

$43-4 \bigcirc 28+0$

$14+6 \bigcirc 65$

2. 比81小，比78大的数是()和()。

3. 在横线上填上合适的数。

$15 - \underline{\quad} = 9$

$14 - \underline{\quad} = 8$

$10 - \underline{\quad} = 6$

$1 \text{元} = \underline{\quad} \text{角}$

$2 \text{元} 5 \text{角} = \underline{\quad} \text{角}$

$59 \text{角} = \underline{\quad} \text{元} \underline{\quad} \text{角}$

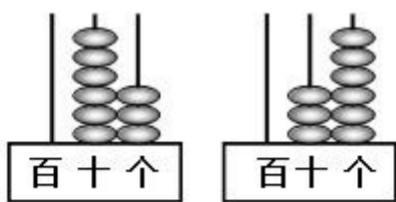
4. 计数器从右边起第一位是_____位，第_____位是十位，第三位是_____位。

最大的两位数是_____，最小的一位数是_____，它们的差是_____。

5. 50里面有_____个十，10个一是_____，10个十是_____。

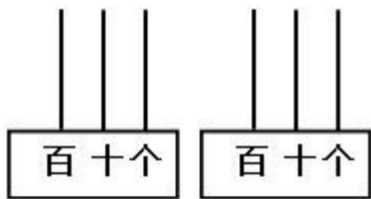
6. 一个两位数的个位上是9，十位上是5，这个数写作是_____读作是_____。

7. (1) 根据计数器先写出得数，再比较大小。



() \bigcirc ()

(2) 在计数器画上珠子，再比较大小。



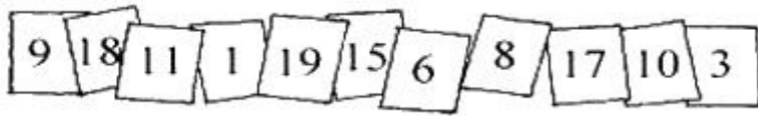
45 \bigcirc 55

学号：_____

姓名：_____

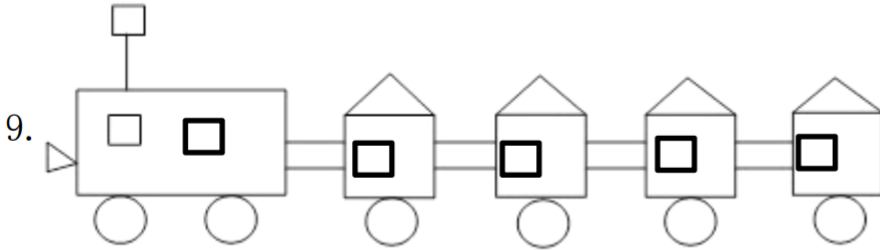
班级：_____

8. 看图回答。



(1) 这里一共有_____个数，最大的数是_____，最小的数是_____。

(2) 从左边数，第五个数是_____；从右边数，第五个数是_____。



这辆小火车一共有_____个图形。其中有_____个□，有_____个△，有_____个○，有_____个□。

二、计算题。（口算 12 分，看图列式 3 分，合计 24 分）

10. 口算。（12 分）

$17-9=$

$11-3=$

$20+15=$

$6+20-6=$

$4+21=$

$7+16=$

$60-8=$

$8+5+3=$

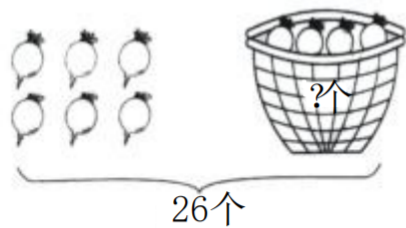
$90-10=$

$50+18 =$

$94-50=$

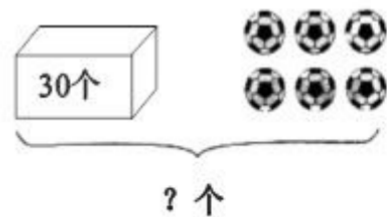
$75-5-8=$

11. 看图列式。（3 分）



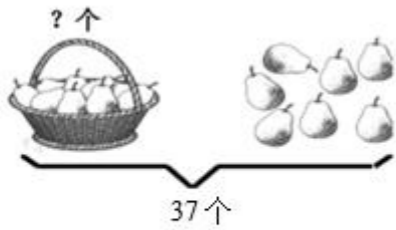
$\square \bigcirc \square = \square ()$

12. 看图列式。（3 分）



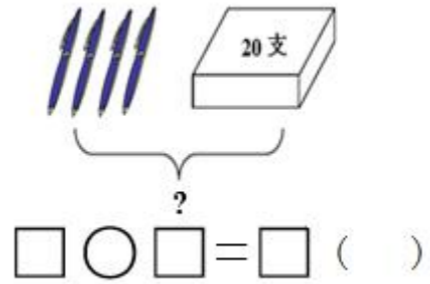
$\square \bigcirc \square = \square ()$

13. 看图列式。(3分)



$$\square \bigcirc \square = \square \text{ ()}$$

14. 看图列式。(3分)



$$\square \bigcirc \square = \square \text{ ()}$$

三、生活问题我解决! ((1) (5) 6分, (1-4) 每题 5分, (6) 8分, 合计 35分)。

1、填表。(6分)

	yuányǒu 原有	màichū 卖出	hóishèng 还剩
	58 个	40 个	() 个
	38 块	() 块	6 块
	() 条	16 条	6 条



2、



花坛里有多少棵花?



$$\square \bigcirc \square = \square \text{ ()}$$

3、商店里有一批  ，3天卖出42把，还剩6把。这批  原来有多少把？（5分）

$$\square \circ \square = \square (\quad)$$

4、美术组共有28人，其中女生8人，男生有多少人？（5分）

$$\square \circ \square = \square (\quad)$$

5、妈妈买了26个苹果，第一天吃掉一些，第二天又吃掉一些，还剩5个。两天一共吃掉多少个苹果？（6分）

$$\square \circ \square = \square (\quad)$$

6、



书包



字典



洋娃娃

(1) 买一个书包和一本字典一共要多少元？（4分）

$$\square \circ \square = \square (\quad)$$

(2) 买一个书包和一个洋娃娃一共要多少元？（4分）

$$\square \circ \square = \square (\quad)$$

参考答案

一、1. $>$ $>$ $=$ $<$ $>$ $<$

2. 79 80

3. 6 6 4 10 25 5 9

4. 个 二 百 99 1 98

5. 5 10 100

6. 59 五十九

7. (1) $63 > 36$ (2) 画一画略。 $45 < 55$

8. (1) 11 19 1 (2) 19 6

9. 27 11 5 6 5

二、1. 8 8 35 20 25 23 52 16 80 8 44 62

2. $26 - 6 = 20$ (个)

3. $30 + 6 = 36$ (颗)

4. $37 - 7 = 30$ (个)

5. $20 + 4 = 24$ (支)

三、1. 18 32 22

2. $34 + 30 = 64$ (棵)

3. $42 + 6 = 48$ (把)

4. $28 - 8 = 20$ (人)

5. $26 - 5 = 21$ (个)

6. (1) $22 + 7 = 29$ (元) (2) $22 + 20 = 42$ (元)